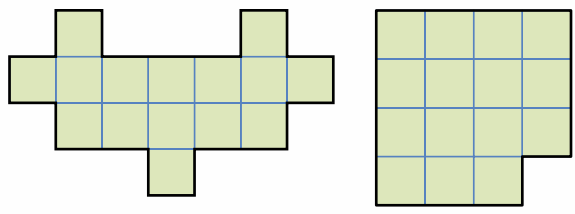


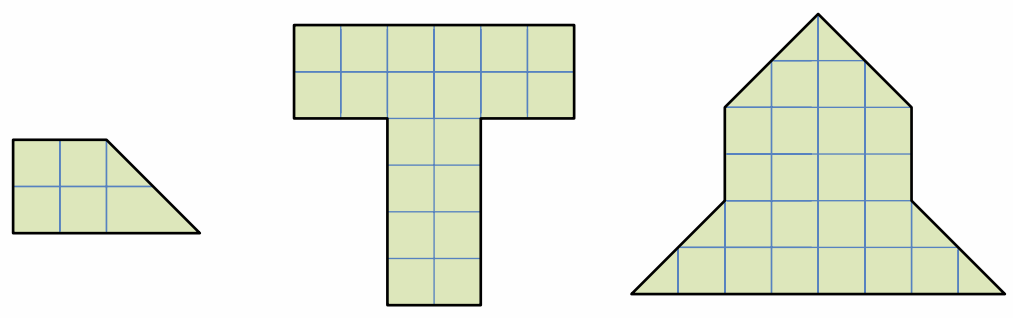


# ДАВАЙТЕ ПОРАЗРЕЗАЕМ!


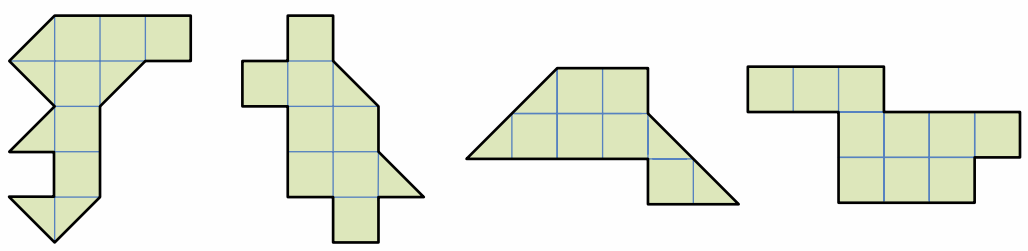
✂ **Задача 1.** Разрежьте каждую из фигур на три равные по форме части.



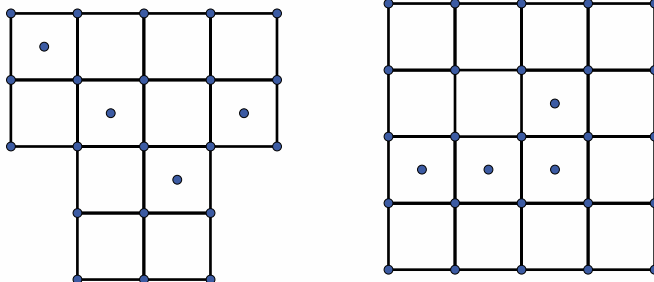
✂ **Задача 2.** Разрежьте каждую из фигур на четыре равные по форме части. (Резать можно только по сторонам и диагоналям клеточек.)



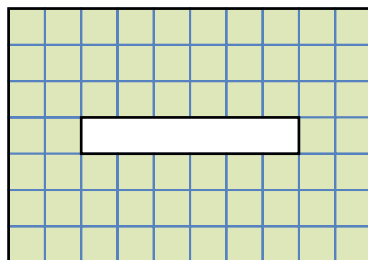
✂ **Задача 3.** Разрежьте каждую из фигур на две одинаковые части.



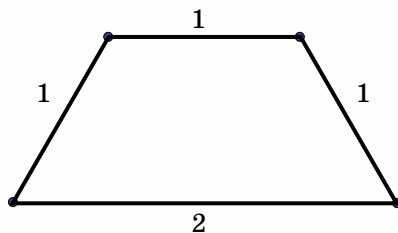
✂ **Задача 4.** Попробуйте разрезать фигуры на равные части так, чтобы в каждой оказалось по одной точке.



✂ **Задача 5.** Из прямоугольника  $10 \times 7$  клеток вырезали прямоугольник  $1 \times 6$  клеток, как показано на рисунке. Разрежьте полученную фигуру на две части так, чтобы из них можно было сложить квадрат.



✂ **Задача 6.** Фигуру ниже можно разрезать и на 3 одинаковых фигурки, и на 4. Как?



✂ **Задача 7.** Фигуру ниже можно разрезать и на 2 одинаковых фигурки, и даже на 3! Как?

